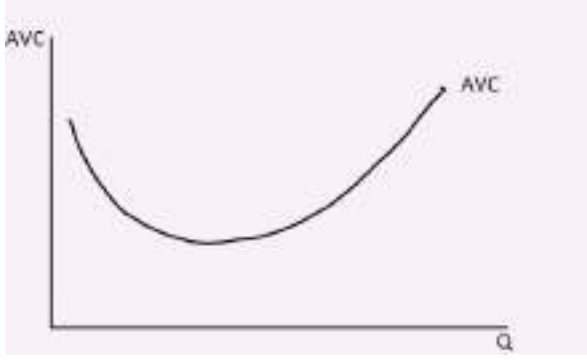


**Short question for 1st sem DSC**  
**MODULE-4**

Q.AVC রেখা অঙ্কন কর।

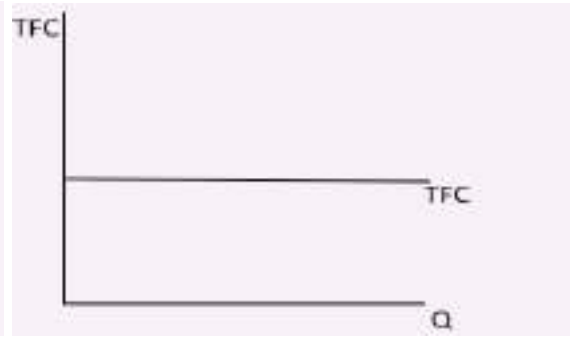
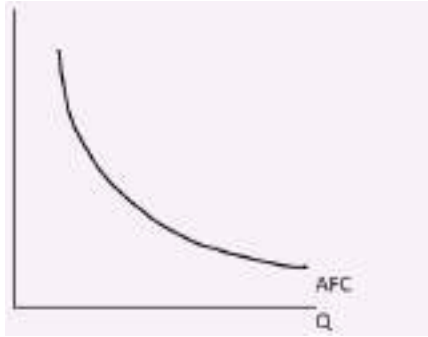
-AVC রেখার আকৃতি U এর মত



Q. AFC ও TFC অরেখা অঙ্কন কর।

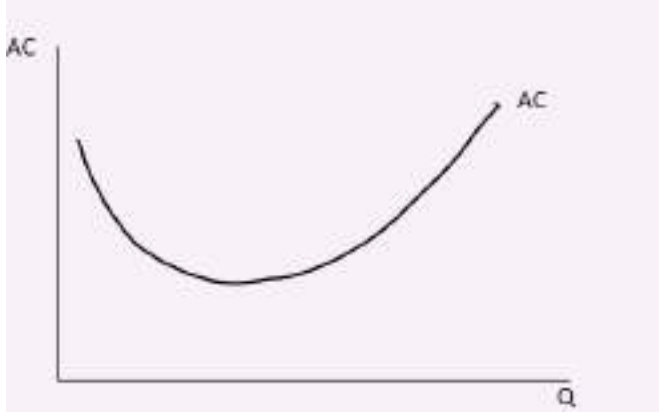
AFC রেখার আকৃতি আয়তক্ষেত্রের পরাবৃত্ত। TFC রেখা অনুভূমিক অক্ষের সমান্তরাল হবে যখন TFC উল্লম্ব অক্ষে মাপা হবে।

AFC



Q.AC রেখা অঙ্কন কর।

-AC রেখার আকৃতি U এর মত

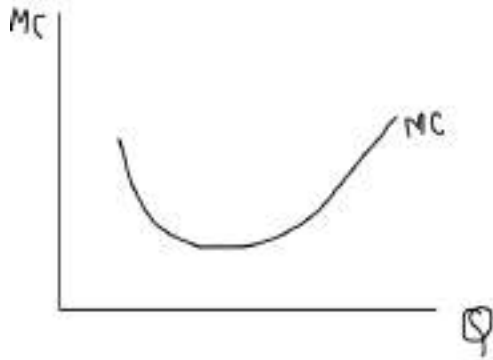


Q, AC ও MC কখন সমান হয়?

-AC রেখার নিম্নতম বিন্দুতে AC ও MC সমান হয়

Q,.MC রেখা অঙ্কন কর।

-MC রেখার আকৃতি U এর মত



Q..AC ও MC রেখার সম্পর্ক লেখো।

AC ও MC রেখার সম্পর্ক;

i)AC যখন কমতে থাকে তখন  $MC < AC$

ii)AC রেখার নিম্নতম বিন্দুতে  $AC = MC$

iii) AC যখন বাড়তে থাকে তখন  $MC > AC$

AC,MC

